







Name: _____

Date: _____

ESTIMATING LENGTH

Look at the object. **Guess** how many blocks long it is.
Then, **Count** the blocks to find the actual length.

Reference Unit: = 1 Block

Object	Measure with Blocks	My Guess	Actual Count
	<div><div></div><div></div><div></div><div></div><div></div><div></div></div>	<div></div>	<div></div>
	<div><div></div><div></div><div></div><div></div></div>	<div></div>	<div></div>
	<div><div></div><div></div><div></div></div>	<div></div>	<div></div>
	<div><div></div><div></div><div></div><div></div><div></div><div></div><div></div></div>	<div></div>	<div></div>
	<div><div></div><div></div></div>	<div></div>	<div></div>
	<div><div></div><div></div><div></div><div></div><div></div></div>	<div></div>	<div></div>